










1. Zvířátka házela kostkou. Zapiš ke každému zvířátku, kolik hodilo.
Zakroužkuj zvířátko, které hodilo nejvíc.



2. Zakroužkuj správnou odpověď.


MÍČ JE NAHOŘE
MÍČ JE DOLE
MÍČ JE VPRAVO


MÍČ JE DOLE
MÍČ JE VPRAVO
MÍČ JE NAHOŘE


MÍČ JE VLEVO
MÍČ JE DOLE
MÍČ JE NAHOŘE


MÍČ JE VLEVO
MÍČ JE DOLE
MÍČ JE VPRAVO

3. Vypočítej.

- $9 - 2 - 6 =$ _____
 $6 + 2 + 1 =$ _____
 $10 - 2 - 5 =$ _____
 $4 + 4 + 2 =$ _____
 $10 - 3 - 5 =$ _____
 $3 + 3 + 3 =$ _____
 $10 - 4 - 4 =$ _____
 $3 + 5 + 2 =$ _____
 $10 - 6 - 3 =$ _____
 $5 + 5 + 0 =$ _____
 $10 - 7 - 3 =$ _____
 $10 - 0 - 1 =$ _____
 $6 + 3 + 1 =$ _____


4. V ZOO Praha se minulý rok narodilo 16 mláďat. V ZOO Liberec se v minulém roce narodilo o 5 mláďat méně. Kolik mláďat se v minulém roce narodilo v ZOO Liberec?
















Výpočet:

Odpověď:

.....

5. Tajná zpráva



A = 
 Á = 
 Í = 
 J = 
 K = 
 N = 
 O = 
 R = 
 Ř = 
 S = 
 T = 
 U = 
 V = 
 Y = 
 Z = 

6. Zprávu přepiš psacím písmem.

.....

.....