




1. Seřad' a očíslej hodiny podle toho, jak šel čas od jedné hodiny do osmi.



2. Den má 24 hodin.
Jedna hodina odpoledne je 13 hodin.

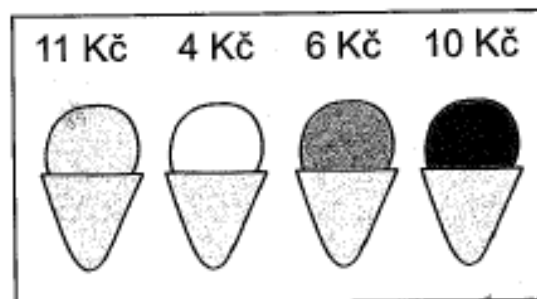


3. Ukaž, které hodiny ukazují:
14 hodin, 18 hodin, 20 hodin, 15 hodin,
17 hodin, 16 hodin, 19 hodin, 13 hodin?

4. Vypočítej.

a) Kolik korun utratilo každé dítě za zmrzlinu?

b) Kdo utratil nejvíce, kdo nejméně?



Nejvíce utratil a nejméně

$4 + 6 = 10$			
Karel	Lucka	Pepík	Adéla
Zuzka	Roman	Kuba	Linda

5. Doplň věty správnými slovy.

- | | |
|------------------------|--------|
| 1. Dáša má nový | hřebík |
| 2. Doma máme malé | Brok |
| 3. Štěně se jmenuje | štěně |
| 4. Táta zatlouká | video |
| 5. Pustili jsme si | brýle |
| 6. Babička hledá svoje | svetr |



6. Přepiš věty psacím písmem.

1.

2.

3.

4.

5.

6.

.....