

1. Ztratily se háčky. Dopiš je.

Jirík hraje na **pocítaci**.

Jezelek loví záby i **uzovky**.

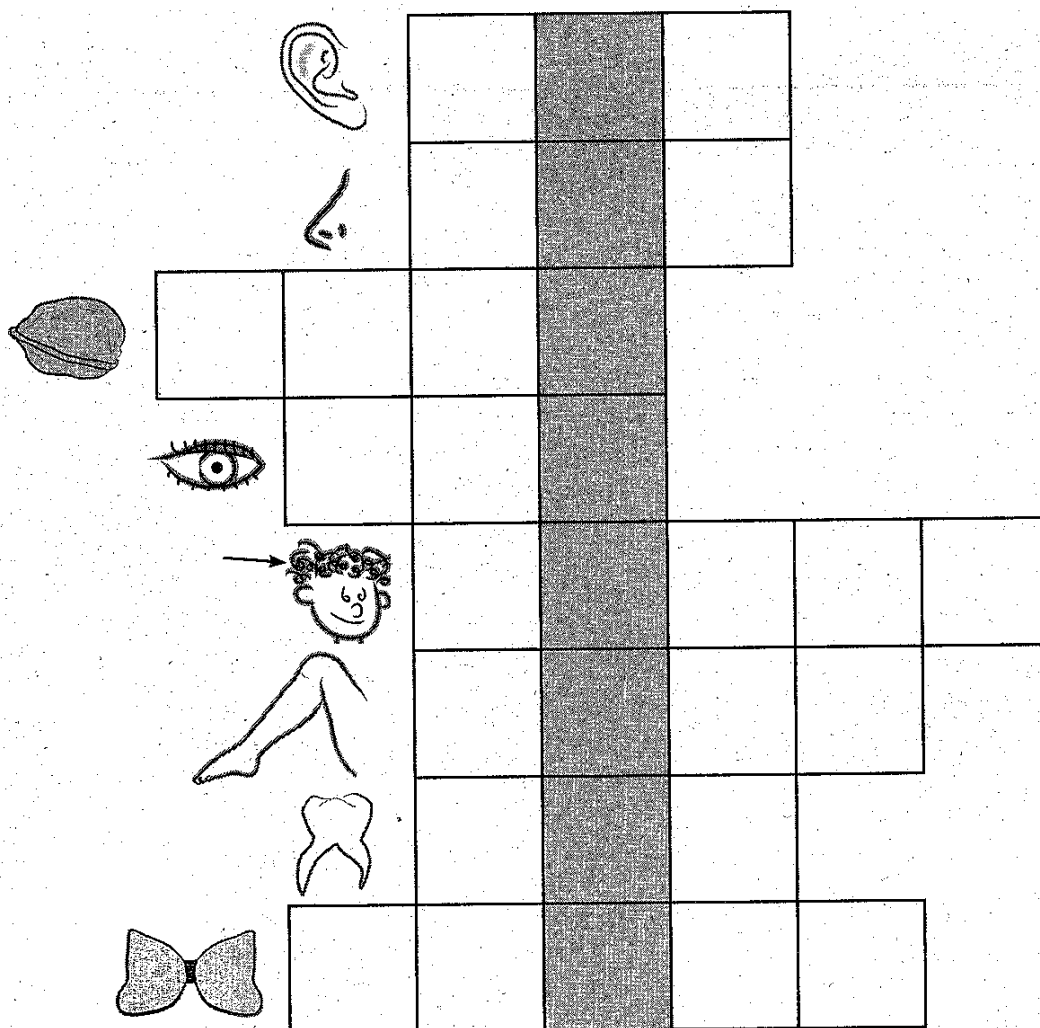
K večeri máme **smazené rízky**.

Růžena dostala **cervené růže**.

Malír **maluje reku**.

Jirina má **zlutou cepici**.

2. Vylušti křížovku (ptáček s chocholkou).



3. Připoj barevnými pruty příklady na kapry se správnými výsledky. Obrázek vybarvi.

$10 + 2 =$
$20 - 10 =$
$12 + 6 =$
$15 - 4 =$

$15 + 4 =$
$14 + 6 =$
$18 - 5 =$
$19 - 3 =$

Fish with numbers: 12, 18, 13, 11, 20, 19, 10, 16.


4. Petrovi vyrostly za zahrádce 3 mrkve, 5 hrachových lusků a 2 pórky. Kolik kusů zeleniny Petrovi vyrostlo?

















Výpočet:

Odpověď:

.....

5. Tajný dopis



A = 
 Á = 
 E = 
 É = 
 H = 
 I = 
 J = 
 K = 
 L = 
 N = 
 O = 
 R = 
 S = 
 Š = 
 T = 
 V = 
 Y = 