

1. Jak se děti jmenují?



hoří Re




řinají



říjí

2. Doplň čísla na ciferníku.





3. Ke každému času v tabulce najdi stejný čas na hodinách a dvojice spoj čarou. Dopiš písmeno podle vzoru.

„Mohu se dívat na televizi?“ ptá se Honza.

„Ano,“ říká maminka,

„ale jen do

5 hodin	O
3 hodiny	
11 hodin	
6 hodin	



4. Děti si společně namalovaly obrázek.

Vypočítej a zapiš.

Dokresli správně obrázek.

Petr namaloval 6 oken,
Eva 4 okna a Honza 2 okna.
Kolik oken je na domě?

$$6 + 4 + 2 = 12$$

Na domě je 12 oken.

Eva namalovala 3 stromy,
Honza 7 stromů a Petr 5 stromů.
Kolik stromů je na obrázku?

Je tu stromů.

Honza namaloval 2 ptáky,
Petr 8 ptáků a Eva 4 ptáky.
Kolik ptáků létá po nebi?

Po nebi létá ptáků.

Eva namalovala 9 květin,
Petr 1 květinu a Honza 6 květin.
Kolik květin je na louce?

Na louce je květin.

